


نام و نام خانوادگی:

به نام خدا  
نمونه آزمون ریاضی پایه اول ابتدایی  
دبستان دانیال نبی (ع)

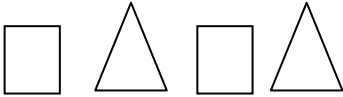
بهمن ماه.....

به تعداد شکل های سمت چپ از شکل های سمت راست را رنگ کن.



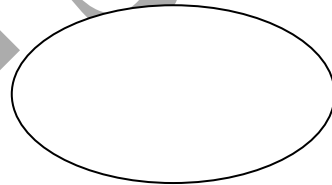
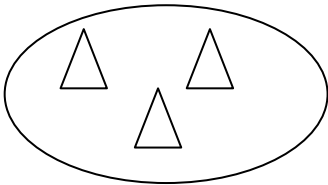
۱

دو شکل بعدی هر الگو را بکش.



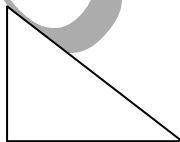
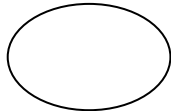

۲

اگر ۲ تا به دسته ی سمت چپ اضافه کنیم چندتا می شود آن را در جای خالی بکش.



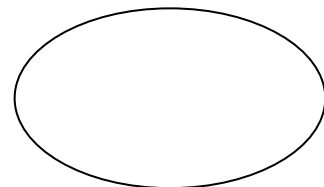


۳

شکل های زیر چند گوشه دارند گوشه ها را رنگی کن.




۴

شکل های سمت راست و چپ با هم چند تا هستند با چوب خط در جای خالی نشان بده.



۵

شکل را طوری کامل کن که دو نیمه ی آن مثل هم باشند.



۶